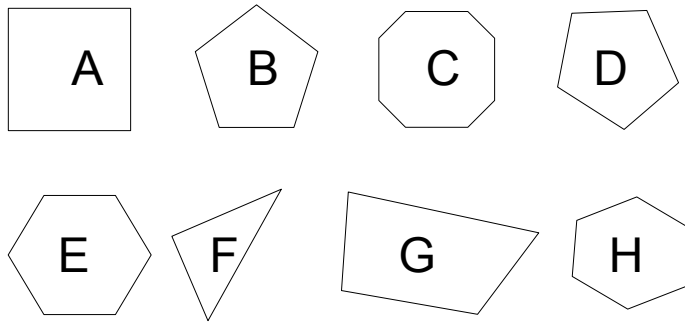


Géométrie

Objectif : Classer les polygones

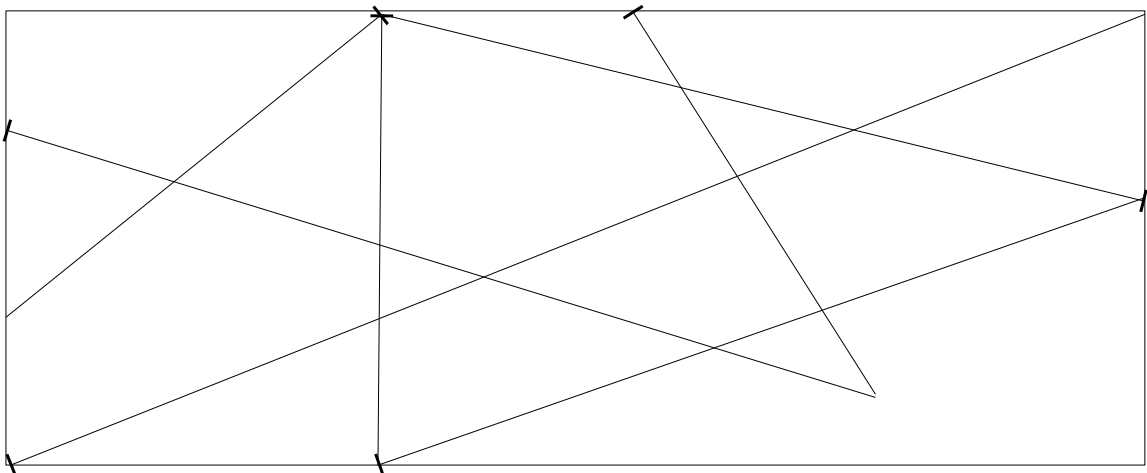
Rappel Un triangle a 3 côtés, un quadrilatère 4, un pentagone 5, un hexagone 6 et un octogone 8.

1 – Observe bien les polygones et réponds ensuite aux questions.



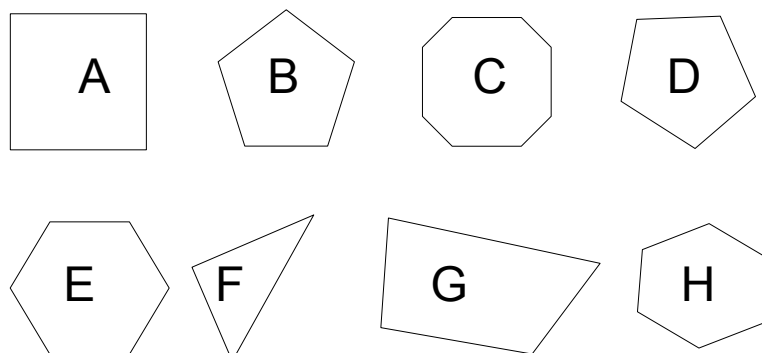
| | Nombre de côtés | |
|--------------------------------|-----------------|--|
| Quels sont les triangles ? | | |
| Quels sont les quadrilatères ? | | |
| Quels sont les pentagones ? | | |
| Quels sont les hexagones ? | | |
| Quels sont les octogones ? | | |

2 – Et maintenant, peux-tu attribuer une couleur à chaque type de polygones ?
Colorie ensuite leurs noms dans le tableau ci-dessus et applique les mêmes couleurs aux polygones que tu découvres dans le rectangle ci-dessous.



Corrigé

1 – Observe bien les polygones et réponds ensuite aux questions.



| | | Nombre de côtés |
|--------------------------------|-------|-----------------|
| Quels sont les triangles ? | F | 3 |
| Quels sont les quadrilatères ? | A - G | 4 |
| Quels sont les pentagones ? | B - D | 5 |
| Quels sont les hexagones ? | E - H | 6 |
| Quels sont les octogones ? | C | 8 |

2 – Et maintenant, peux-tu attribuer une couleur à chaque type de polygones ?
Colorie ensuite leurs noms dans le tableau ci-dessus et applique les mêmes couleurs aux polygones que tu découvres dans le rectangle ci-dessous.

